

## PHIẾU BÀI TẬP TOÁN LỚP 1 TUẦN 22

**Bài 1: Điền số thích hợp vào chỗ trống**

a)

25		27			30			33	
----	--	----	--	--	----	--	--	----	--

b)

99			96			93		91	
----	--	--	----	--	--	----	--	----	--

**Bài 2: Tính nhẩm**

$10 - 4 + 1 =$        $9 - 2 - 3 =$        $2 + 7 - 5 =$

$8 - 6 - 2 =$        $7 + 1 + 1 =$        $5 - 3 + 6 =$

**Bài 3: Hoàn thành bảng dưới đây (theo mẫu):**

Đọc	Viết
15	Mười lăm
67	
	Ba mươi tư
96	
	Hai mươi tám
49	

**Bài 4: Viết các số: 34; 12; 67; 96; 50**

a) Theo thứ tự từ bé đến lớn:.....

b) Theo thứ tự từ lớn đến bé:.....

**Bài 5: Viết vào chỗ chấm theo mẫu**

a) Số 15 gồm 1 chục và 5 đơn vị

b) Số 46 gồm .... chục và ... đơn vị

c) Số 75 gồm ... chục và ... đơn vị

d) Số 29 gồm ... chục và ... đơn vị

**Bài 6:** >, <, =

$10 - 5 \dots 6$

$2 + 4 \dots 4$

$1 + 9 \dots 8 + 2$

$8 - 1 \dots 7$

$7 + 3 \dots 8$

$9 - 6 \dots 9 - 5$

**Bài 7: Trong các số từ 0 đến 100**

a) Số bé nhất có một chữ số là....

b) Số lớn nhất có một chữ số là....

c) Số bé nhất có hai chữ số là....

d) Số lớn nhất có hai chữ số là....

**Bài 8: Số?**

$\square + 5 = 9$

$\square - 6 = 4$

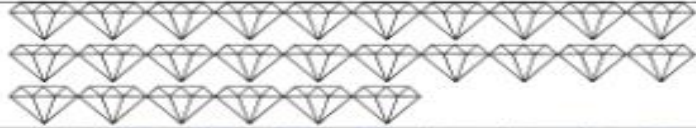









$7 - \square = 3$

$9 - \square = 3$

$4 + \square = 8$

$\square + 0 = 2$

**Bài 9: Điền số thích hợp vào chỗ trống:**

**Bài 10: Đúng ghi Đ sai ghi S**

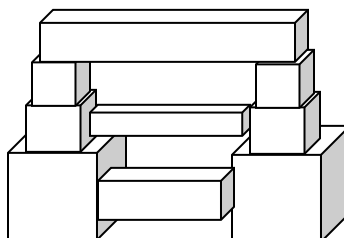
- a) Số 36 là số có hai chữ số
- b) Số 57 gồm 7 chục và 5 đơn vị
- c) Số 90 gồm 9 chục và 0 đơn vị
- d) Số lớn nhất có hai chữ số là 10


**Bài 11: Điền các số thích hợp vào chỗ trống:**

1	2		4	5	6	7	8	9	10
11	12	13	14	15	16		18	19	
21		23	24	25	26	27	28	29	30
31	32	33	34		36	37	38	39	40
41	42	43	44	45	46	47		49	50
	52	53		55	56	57	58	59	60
61	62		64	65	66	67	68	69	
71	72	73	74	75	76		78	79	80
81	82		84	85	86	87	88		90
	92	93	94	95	96	97	98	99	

**Bài 12: Hình bên có:**

- .... khối lập phương
- .... khối hộp chữ nhật



Lưu ý: Phụ huynh có thể in ra cho học sinh làm vào phiếu hoặc cho các bé viết vào vở số 1