

**CHƯƠNG TRÌNH HỖ TRỢ HỌC SINH ÔN BÀI TẠI NHÀ
TRONG THỜI GIAN NGHỈ HỌC ĐỂ PHÒNG DỊCH COVID – 19**

ÔN TẬP MÔN TOÁN LỚP 1

A. Trắc nghiệm

Khoanh tròn vào đáp án đúng:

Bài 1: $15 + 0 = ?$

- A. 15 B. 16 C. 17

Bài 2: $19 - 4 = ?$

- A. 13 B. 14 C. 15

Bài 3 : $17 + 2 = ?$

- A. 17 B. 18 C. 19

Bài 4: $5 - 2 + 1 = ?$

- A. 5 B. 4 C. 7

Bài 5: $17 - 2 = ?$

- A. 15 B. 13 C. 14

Bài 6: $5 + 3 - 2 = ?$

- A. 6 B. 7 C. 8

Bài 7: $1 + 9 - 7 = ?$

- A. 10 B. 8 C. 3

Bài 8 : $17 - 7 + 5 = ?$

- A. 14 B. 15 C. 16

Bài 9 : $4 + 12 - 2 = ?$

- A. 10 B. 11 C. 14

Bài 10 : $10 - 7 + 2 = ?$

A. 5

B. 6

C. 7

Bài 11: Liền sau số 4 là số:

A. 5

B. 7

C. 8

Bài 12: Liền sau số 15 là số:

A. 14

B. 15

C. 16

Bài 13: Liền sau số 10 là số:

A. 13

B. 12

C. 11

Bài 14: Liền trước số 7 là số:

A. 5

B. 6

C. 7

Bài 15: Liền trước số 14 là số:

A. 13

B. 15

C. 17

Bài 16: Liền trước số 20 là số:

A. 15

B. 17

C. 19

Bài 17 : $\square - 3 = 5$

A. 7

B. 8

C. 9

Bài 18 : $\square + \quad = 9$

A. 1

B. 2

C. 3

Bài 19 : $\square - \quad = 9$

A. 9

B. 0

C. 1

Bài 20 : $3 + 4 \dots 4 + 3$

A. >

B. <

C. =

Bài 21 : $13 + 2 \dots 11 + 3$

A. >

B. <

C. =

Bài 22 : **19 - 4..... 6 + 12**

A. > B. < C. =

Bài 23: **9 - 3 0 + 4 .**

A. > B. < C. =

Bài 24: Số bé nhất có một chữ số là:

A.1 B. 0 C. 2

Bài 25: Số bé nhất trong các số 2, 9, 3, 5 là :

A. 9 B. 5 C. 2

Bài 26: Số lớn nhất có một chữ số là:

A. 0 B. 1 C. 9

Bài 27: Số lớn nhất trong các số 0, 8, 10, 7 là :

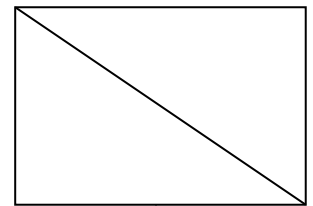
A. 0 B. 10 C. 8

Bài 28: Số bé nhất trong các số 9, 10, 0, 7 là :

A. 7 B. 0 C. 10

Bài 29 : Hình vẽ bên có.....hình tam giác:

A. 2 B. 3 C. 4




Bài 30: Hình vẽ bên có hình tròn là:

A. 1 hình tròn

B. 2 hình tròn

C. 3 hình tròn

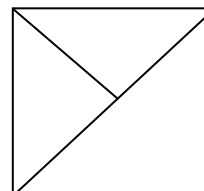


Bài 31 : Hình vẽ bên có hình tam giác:

A. 2

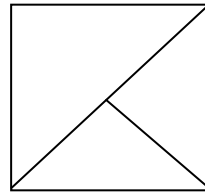
B. 3

C. 4



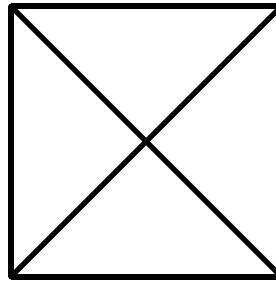
Bài 32 : Hình vẽ bên có hình vuông:

- A. 1
- B. 2
- C. 3



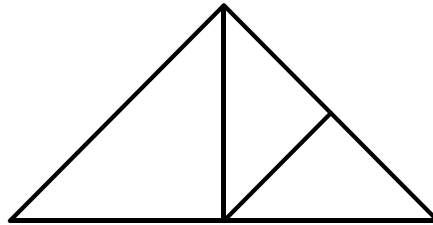
Bài 33: Hình vẽ bên có hình tam giác

- A. 7
- B. 8
- C. 9



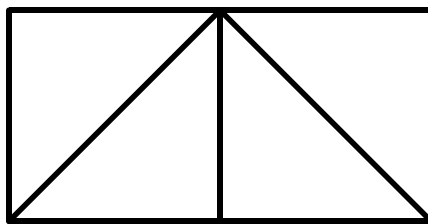
Bài 34: Hình vẽ bên có hình tam giác

- A. 5
- B. 6
- C. 7



Bài 35: Hình vẽ bên có hình vuông

- A. 1
- B. 2
- C. 3



Bài 36: Số lớn nhất có hai chữ số có trong dãy số sau 12,13,20,17.

- A. 13
- B. 17
- C. 20

Bài 37: Số bé nhất có hai chữ số.

- A. 13
- B. 17
- C. 10

Bài 38: Số bé nhất có một chữ số.

A. 0

B. 1

C. 2

Bài 39: $19 \square = 19$

A. 0

B. 1

C. 2

Bài 40 : $\square - 3 = 5$

A. 17

B. 18

C. 19

B. TỰ LUẬN

A. Thực hiện các phép tính cộng, trừ

Bài 1: Tính

$$\begin{array}{r} 7 \\ + \\ \hline 3 \\ \hline \end{array}$$

.....

$$\begin{array}{r} 9 \\ + \\ \hline 1 \\ \hline \end{array}$$

.....

$$\begin{array}{r} 7 \\ + \\ \hline 2 \\ \hline \end{array}$$

.....

$$\begin{array}{r} 2 \\ + \\ \hline 6 \\ \hline \end{array}$$

.....

$$\begin{array}{r} 10 \\ - \\ \hline 2 \\ \hline \end{array}$$

.....

$$\begin{array}{r} 9 \\ - \\ \hline 6 \\ \hline \end{array}$$

.....

$$\begin{array}{r} 9 \\ - \\ \hline 9 \\ \hline \end{array}$$

.....

$$\begin{array}{r} 6 \\ - \\ \hline 1 \\ \hline \end{array}$$

.....

Bài 2: Tính

$$\begin{array}{r} 12 \\ + \\ \hline 3 \\ \hline \end{array}$$

.....

$$\begin{array}{r} 14 \\ + \\ \hline 4 \\ \hline \end{array}$$

.....

$$\begin{array}{r} 10 \\ + \\ \hline 2 \\ \hline \end{array}$$

.....

$$\begin{array}{r} 11 \\ + \\ \hline 3 \\ \hline \end{array}$$

.....

$\begin{array}{r} 14 \\ - \\ \hline 1 \\ \hline \end{array}$	$\begin{array}{r} 15 \\ - \\ \hline 4 \\ \hline \end{array}$	$\begin{array}{r} 19 \\ - \\ \hline 4 \\ \hline \end{array}$	$\begin{array}{r} 16 \\ - \\ \hline 2 \\ \hline \end{array}$
.....

Bài 3: Tính

$\begin{array}{r} 15 \\ + \\ \hline 3 \\ \hline \end{array}$	$\begin{array}{r} 10 \\ + \\ \hline 4 \\ \hline \end{array}$	$\begin{array}{r} 11 \\ + \\ \hline 7 \\ \hline \end{array}$	$\begin{array}{r} 15 \\ + \\ \hline 2 \\ \hline \end{array}$
.....
$\begin{array}{r} 18 \\ - \\ \hline 5 \\ \hline \end{array}$	$\begin{array}{r} 12 \\ - \\ \hline 1 \\ \hline \end{array}$	$\begin{array}{r} 17 \\ - \\ \hline 6 \\ \hline \end{array}$	$\begin{array}{r} 10 \\ - \\ \hline 2 \\ \hline \end{array}$
.....

Bài 4: Tính

$1 + 4 = \dots$	$8 - 2 = \dots$	$5 + 5 = \dots$
$8 + 1 = \dots$	$2 + 7 = \dots$	$6 - 4 = \dots$
$9 - 1 = \dots$	$3 + 4 = \dots$	$5 - 1 = \dots$

Bài 5: Tính

$11 + 4 = \dots$	$18 - 2 = \dots$	$15 - 4 = \dots$
$18 + 1 = \dots$	$12 + 7 = \dots$	$16 - 4 = \dots$
$12 + 1 = \dots$	$13 + 4 = \dots$	$15 - 3 = \dots$

Bài 6: Tính

$10 + 0 = \dots$	$8 - 0 = \dots$	$5 - 5 = \dots$
$18 + 0 = \dots$	$0 + 7 = \dots$	$6 - 0 = \dots$
$11 + 0 = \dots$	$0 + 8 = \dots$	$9 + 0 = \dots$

Bài 7: Tính

$5 + 2 - 3 = \dots\dots$

$10 - 4 + 1 = \dots\dots$

$1 + 5 - 3 = \dots\dots$

$5 - 5 + 2 = \dots\dots$

$0 + 8 - 1 = \dots\dots$

$9 - 6 + 2 = \dots\dots$

Bài 8: Tính

$15 + 2 - 3 = \dots\dots$

$12 + 2 + 1 = \dots\dots$

$11 + 5 - 3 = \dots\dots$

$13 + 5 + 0 = \dots\dots$

$10 + 8 - 5 = \dots\dots$

$19 - 6 + 2 = \dots\dots$

Bài 9: Tính

$17 + 2 - 6 = \dots\dots$

$10 + 2 + 5 = \dots\dots$

$18 + 0 - 7 = \dots\dots$

$17 + 1 + 0 = \dots\dots$

$12 + 5 - 1 = \dots\dots$

$14 + 4 + 1 = \dots\dots$

Bài 10: Tính

$11 + 4 - 3 = \dots\dots$

$15 + 2 + 0 = \dots\dots$

$15 + 3 - 7 = \dots\dots$

$14 + 4 + 1 = \dots\dots$

$16 + 3 - 5 = \dots\dots$

$17 + 2 + 0 = \dots\dots$

B. Sắp xếp các số

Bài 1. Viết các số **8, 19, 20, 16, 10** theo thứ tự:

a/Từ bé đến lớn:

b/Từ lớn đến bé:

Bài 2. Viết các số **9, 13, 12, 16, 10** theo thứ tự:

a/Từ bé đến lớn:

b/Từ lớn đến bé:

Bài 3. Viết các số **14, 19, 2, 6, 0** theo thứ tự:

a/Từ bé đến lớn:

b/Từ lớn đến bé:

Bài 4. Viết các số **8, 13, 5, 20, 11**, theo thứ tự:

a/Từ bé đến lớn:

b/Từ lớn đến bé:

Bài 5. Viết các số **11, 13, 9, 16, 10** theo thứ tự:

a/Từ bé đến lớn:

b/Từ lớn đến bé:

Bài 6. Viết các số **8, 17, 19, 20, 14** theo thứ tự:

a/Từ bé đến lớn:

b/Từ lớn đến bé:

Bài 7. Viết các số **7, 10, 20, 6, 16** theo thứ tự:

a/Từ bé đến lớn:

b/Từ lớn đến bé:

Bài 8. Viết các số **20, 13, 19, 12, 15** theo thứ tự:

a/Từ bé đến lớn:

b/Từ lớn đến bé:

Bài 9. Viết các số **12, 15, 9, 6, 10** theo thứ tự:

a/Từ bé đến lớn:

b/Từ lớn đến bé:

Bài 10. Viết các số **8, 3, 20, 5, 10** theo thứ tự:

a/Từ bé đến lớn:

b/Từ lớn đến bé:

Bài 11. Viết các số **12, 9, 2, 15, 10** theo thứ tự:

a/Từ bé đến lớn:

b/Từ lớn đến bé:

C. Khoanh tròn vào số

Bài 1.

a. Khoanh tròn vào số lớn nhất :

1 ; 7 ; 2 ; 9 ; 5

b. Khoanh tròn vào số bé nhất :

3 ; 8 ; 4 ; 6 ; 0

Bài 2.

a. Khoanh tròn vào số lớn nhất :

10 ; 17 ; 12 ; 19 ; 15
20

b. Khoanh tròn vào số bé nhất :

13 ; 18 ; 14 ; 16 ;

Bài 3.

a. Khoanh tròn vào số lớn nhất :

4 ; 7 ; 8 ; 6 ; 5

b. Khoanh tròn vào số bé nhất :

2 ; 7 ; 4 ; 6 ; 0

Bài 4.

a. Khoanh tròn vào số lớn nhất :

10 ; 7 ; 12 ; 19 ; 15

b. Khoanh tròn vào số bé nhất :

11 ; 8 ; 14 ; 19 ; 20

Bài 5.

a. Khoanh tròn vào số lớn nhất :

10 ; 17 ; 11 ; 19 ; 14
18

b. Khoanh tròn vào số bé nhất :

10 ; 15 ; 14 ; 13 ;

Bài 6.

a. Khoanh tròn vào số lớn nhất :

12 ; 7 ; 16 ; 9 ; 15

b. Khoanh tròn vào số bé nhất :

2 ; 18 ; 4 ; 16 ; 20

Bài 7.

a. Khoanh tròn vào số lớn nhất :
8 ; 7 ; 2 ; 9 ; 0

b. Khoanh tròn vào số bé nhất :
13 ; 0 ; 10 ; 11 ; 20

Bài 8.

a. Khoanh tròn vào số lớn nhất :
11 ; 16 ; 10 ; 20 ; 15
19

b. Khoanh tròn vào số bé nhất :
12 ; 20 ; 14 ; 16 ;

Bài 9.

a. Khoanh tròn vào số lớn nhất :
0 ; 7 ; 1 ; 9 ; 5

b. Khoanh tròn vào số bé nhất :
3 ; 8 ; 1 ; 6 ; 0

Bài 10.

a. Khoanh tròn vào số lớn nhất :
20 ; 17 ; 12 ; 19 ; 13
20

b. Khoanh tròn vào số bé nhất :
10 ; 8 ; 12 ; 18 ;

D. Điền dấu và số**Bài 1: Điền dấu >, <, = thích hợp vào ô trống:**

9 5 5 4 6 8 10 8
6 8 6 17 17 9 5 15

Bài 2: Điền dấu >, <, = thích hợp vào ô trống:

6 5 4 3 + 5 9 10 - 5 6 8 - 4
5 6 8 7 + 0 2 + 7 10 8 3 + 5

Bài 3: Điền dấu >, <, = thích hợp vào ô trống:

$$\begin{array}{lll} 8 + 0 \square & 9 - 3 & 5 + 4 \square & 19 - 2 & 2 + 10 \square & 1 + 8 \\ 9 - 4 \square & 8 - 1 & 3 + 7 \square & 10 - 10 & 4 + 3 \square & 15 + 3 \end{array}$$

Bài 4: Số ?

$$\begin{array}{lll} \text{a) } 4 + 3 < \square & 9 + \square < 10 & 4 + \square < 8 \\ \text{b) } 19 - 4 < \square & 10 - \square < 6 & 9 - \square < 4 \end{array}$$

Bài 5: Số ?

$$\begin{array}{lll} \text{a) } 11 + 6 > \square & 2 + \square > 7 & 4 + \square > 9 \\ \text{b) } 6 - 3 > \square & 0 + \square > 6 & 9 - \square > 8 \end{array}$$

Bài 6: Số ?

$$\begin{array}{lll} \text{a) } 13 + 5 = \square & 3 + \square = 7 & 19 - \square = 16 \\ \text{b) } 4 + 3 = \square & 9 + \square < 10 & 4 + \square = 10 \end{array}$$

Bài 7: Số ?

$$\begin{array}{lll} \text{a) } \square + 3 = 9 & \square - 2 = 6 & \square - 3 = 5 \\ \text{b) } \square + 5 = 10 & \square - 0 = 7 & \square + 0 = 8 \end{array}$$

Bài 8: Số?

$10 - 3 < \square + 3$

$4 + 4 > \square + 5$

$0 + 6 < \square - 2$

$13 + 4 < \square + 7$

$7 - 0 > \square + 2$

$7 - 5 < \square + 2$

Bài 9: Số ?

a. $\square \xrightarrow{+4} \square \xrightarrow{-2} \bigcirc$

b. $\square \xrightarrow{-6} \square \xrightarrow{+5} \bigcirc$

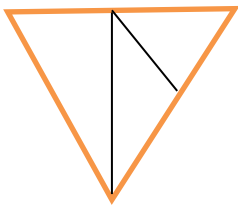
Bài 10: Số ?

a. $\square \xrightarrow{-7} \square \xrightarrow{+6} \bigcirc \xrightarrow{-2} \square \xrightarrow{+3} \bigcirc$

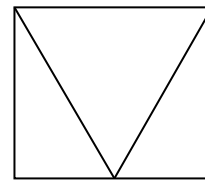
b. $\square \xrightarrow{-2} \square \xrightarrow{-2} \bigcirc \xrightarrow{+5} \square \xrightarrow{+1} \bigcirc$

D. TOÁN HÌNH

a. Có..... hình tam giác.



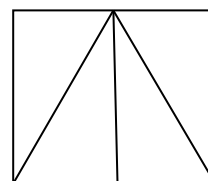
b. Cóhình tam giác.



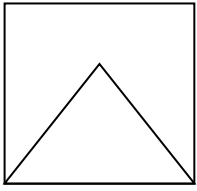
c. Cóhình tam giác
Cóhình vuông.



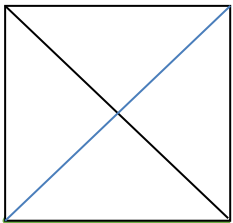
d. Cóhình tam giác.



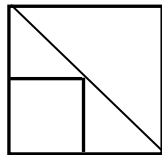
e. Cóhình tam giác;
 Có....hình vuông



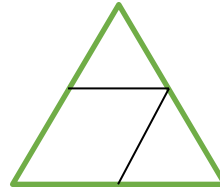
h. Có hình tam giác.
 Có hình vuông.



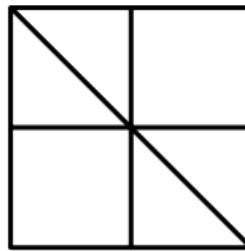
l. Cóhình vuông;
 Có hình tam giác



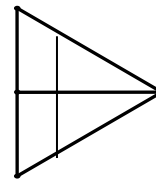
g .Cóhình tam giác
 Có hình vuông.



i. Có hình tam giác
 và hình vuông.



m. Có hình tam giác.



E. Giải toán

Bài 1: Viết phép tính thích hợp



b)



--	--	--	--	--

c) Có : 6 quả cam

Thêm: 4 quả cam

Có tất cả:quả cam ?

--	--	--	--	--

d) Có : 10 viên bi

Cho : 3 viên bi

Còn lại:viên bi ?

--	--	--	--	--

e) Có : 17 con chim

Bay đi : 4 con chim

Còn lại : con chim?

--	--	--	--	--

g) Có: 16 quả

Thêm : 3 quả

Có tất cả: quả?

--	--	--	--	--

h) Có : 15 con tem

Mua thêm: 4 con tem

Tất cả có : con tem ?

--	--	--	--	--

i) Có : 14 máy bay

Bay đi: 4 máy bay

Còn lại: máy bay ?

--	--	--	--	--

k) Có : 18 cái kẹo
Đã ăn : 4 cái kẹo
Còn lại : cái kẹo ?

--	--	--	--	--

l) Có : 12 xe máy
Đã bán: 2 xe máy
Còn lại: xe máy?

--	--	--	--	--