

TRƯỜNG TIỂU HỌC MỸ PHƯỚC

LỚP:

TÊN:.....

ĐỀ ÔN TẬP TOÁN LỚP 1

Em hãy khoanh tròn vào chữ đặt trước kết quả đúng:

Câu 1. Xếp các số: 0, 10, 4, 7 theo thứ tự từ bé đến lớn:

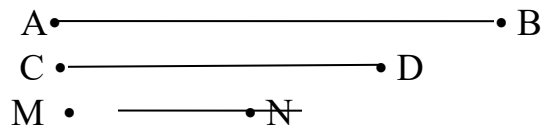
- A. 4, 10, 7, 0 B. 0, 4, 7, 10 C. 10, 7, 4, 0

Câu 2. Kết quả phép tính: $10 - 3 = ?$

- A. 7 B. 4 C. 2 D. 5

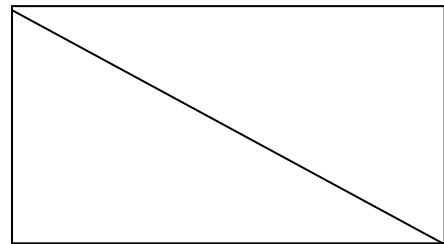
Câu 3. Đoạn thẳng dài nhất là?

- A. Đoạn thẳng CD
B. Đoạn thẳng MN
C. Đoạn thẳng AB

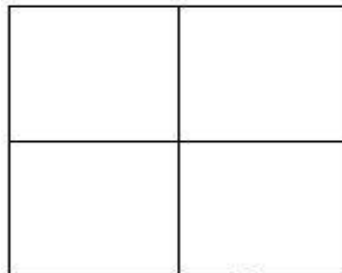


Câu 4. Hình bên có mấy hình tam giác?

- A. 1 hình tam giác
B. 2 hình tam giác
C. 3 hình tam giác



Câu 5. Trong hình dưới đây có mấy hình vuông?



- A. 6 B. 5 C. 8 D. 4

Câu 6: Tính

a)
$$\begin{array}{r} 13 \\ + \\ \hline 2 \\ \hline \end{array}$$

$$\begin{array}{r} 16 \\ - \\ \hline 1 \\ \hline \end{array}$$

b) $10 - 3 + 2 = \dots\dots\dots$ $3 + 7 + 0 = \dots\dots\dots$

Bài 7: (1đ)


Điền dấu >, <, = vào ô trống:

7 $5 + 3$ 8 $10 - 2$ $4 + 5$ 10 $5 + 5$ 10

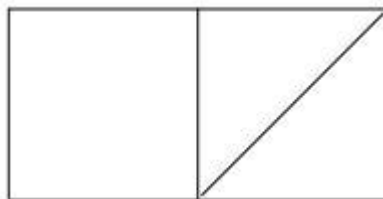
Bài 8 : Số? (1đ)

$7 + 2 = \dots\dots$ $\dots\dots + 2 = 7$ $5 + \dots\dots = 8$ $\dots\dots + 0 = 10$

Câu 9: Viết phép tính thích hợp vào ô trống:



Câu 10: Hình vẽ bên có:



- Cóhình tam giác
- Cóhình vuông